

Jugendlizenz B1

Name _____ Vorname _____

Anschrift _____ PLZ, Ort _____

Geb.-Datum _____ Landesverband _____

Prüfer _____

Punkte erreichbar: **60**

Punkte erreicht _____

bestanden ja


nein

Datum, Unterschrift _____


Jugendlizenz-Fragebogen Nr. 1

Nr.	Frage	Antwort	Pkt
1	Was musst du beachten, bevor du ein unbekanntes Revier befährst?	<input type="checkbox"/> Ich informiere mich über die dort geltenden Vorschriften, Fahrwasserbezeichnungen, Sonderregelungen. <input type="checkbox"/> Ich beschaffe mir das notwendige Kartenmaterial. <input type="checkbox"/> Ich muss mich bei der zuständigen Wasserschutzpolizei registrieren lassen..	•••
2	In deiner Nähe ist ein Unfall passiert. Wie verhältst du dich richtig?	<input type="checkbox"/> Ich bin verpflichtet, unverzüglich Hilfe zu leisten, soweit meine Sicherheit nicht gefährdet wird. <input type="checkbox"/> Ich halte vom verunglückten Boot einen ausreichenden Sicherheitsabstand, damit ich es nicht noch mehr gefährde <input type="checkbox"/> Ich kreuze im Sicherheitsabstand und warte darauf, dass ich um Hilfe gebeten werde	•••
3	Wer ist auf einem Boot für die Befolgung der schiffahrtspolizeilichen Vorschriften verantwortlich?	<input type="checkbox"/> Der Schiffsführer <input type="checkbox"/> Der Bootseigner <input type="checkbox"/> Mein Landesjugendwart	•





Jugendlizenz-Fragebogen Nr. 1

Nr.	Frage	Antwort	Pkt
4	Wie verhältst du dich nach einem Zusammenstoß?	<input type="checkbox"/> Erste Hilfe leisten <input type="checkbox"/> Das Boot aus dem Fahrwasser bringen und erforderliche Daten über das Boot und die Personen notieren. <input type="checkbox"/> Wenn nötig, die Wasserschutzpolizei informieren.	●●●
5	Woraus bestehen die Kennzeichen für ein Boot und wo sind sie angebracht?	<input type="checkbox"/> Kombinationen von Buchstaben und Zahlen beidseitig am Bug oder Heck <input type="checkbox"/> Schiffsname am Bug und Heck <input type="checkbox"/> Eine frei wählbare Nummer gut sichtbar im inneren des Bootes	●●
6	Auf was musst du achten, wenn du in einen Hafen fährst?	<input type="checkbox"/> Sog- und Wellenschlag vermeiden. <input type="checkbox"/> Geschwindigkeitsbeschränkungen beachten. <input type="checkbox"/> Eventuell erforderliche Genehmigung einholen	●●●
7	Du siehst unten stehende Lichter. Welches Fahrzeug erkennst du? <div style="text-align: center;">  </div>	<input type="checkbox"/> Fahrzeug mit Maschinenantrieb in Fahrt von hinten. <input type="checkbox"/> Fahrzeug mit Maschinenantrieb in Fahrt von vorn. <input type="checkbox"/> Gefährliche Baustelle.	●●
8	Mit welcher Beleuchtung musst du mindestens fahren, wenn du ohne Motor nachts unterwegs bist?	<input type="checkbox"/> Eine Dreifarben-Laterne <input type="checkbox"/> Ein weißes Rundumlicht <input type="checkbox"/> Ohne Motor ist eine Beleuchtung nicht erforderlich.	●●


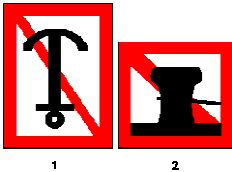
Jugendlizenz-Fragebogen Nr. 1

Nr.	Frage	Antwort	Pkt
9	Welche Zeichen begrenzen die Fahrrinne zum rechten Ufer (rechtes Ufer bei Blickrichtung in Fließrichtung)?	<input type="checkbox"/> Rote Stumpftonnen oder Schwimmstangen, evtl. mit rotem Zylinder als Toppzeichen. <input type="checkbox"/> Grüne Spitztonnen oder Schwimmstangen, evtl. mit grünem Kegel, Spitze nach oben, als Toppzeichen. <input type="checkbox"/> Kugeltonnen in gestreifter Kennung mit roter und grüner Zeichnung.	••
10	Warum darfst du nicht zu dicht an die ausgelegten Tonnen heranfahren?	<input type="checkbox"/> Weil die Tonnen durch Wasserstandsschwankungen ihre Lage verändern können. <input type="checkbox"/> Weil die Tonnen durch Wind- und Strömungseinwirkung ihre Lage verändern können. <input type="checkbox"/> Weil die Tonnen durch den Wellenschlag kentern können.	••
11	Du siehst am Ufer das unten stehende Zeichen. Welche Bedeutung hat es? <div style="text-align: center;">  </div>	<input type="checkbox"/> Hinweis auf eine freifahrende Fähre. <input type="checkbox"/> Hinweis auf eine nicht freifahrende Fähre <input type="checkbox"/> Hinweis auf eine schwimmende Anlage	••

Jugendlizenz-Fragebogen Nr. 1

Nr.	Frage	Antwort	Pkt
12	<p>Du siehst am Ufer das unten stehende Zeichen. Welche Bedeutung hat es?</p> <div style="display: flex; justify-content: center; align-items: center; gap: 20px;"> <div style="text-align: center;">  1 </div> <div style="text-align: center;">  2 </div> </div>	<p>Zeichen 1:</p> <p><input type="checkbox"/> Einfahrt für alle Fahrzeuge verboten</p> <p><input type="checkbox"/> Keine Wendemöglichkeit für Fahrzeuge</p> <p><input type="checkbox"/> Gesperrte Wasserfläche, jedoch für Kleinfahrzeuge ohne Motorantrieb befahrbar.</p> <p>Zeichen 2:</p> <p><input type="checkbox"/> Sog- und Wellenschläge vermeiden, schutzbedürftige Anlage</p> <p><input type="checkbox"/> Gesperrt für alle Fahrzeuge</p> <p><input type="checkbox"/> Gegenverkehr hat Vorrang und darf nicht behindert werden.</p>	••
13	<p>Du siehst vor einer Schleuse die untenstehende Tafel. Welche Bedeutung hat sie?</p> <div style="text-align: center;">  </div>	<p><input type="checkbox"/> Gegenverkehr hat Vorrang und darf nicht behindert werden.</p> <p><input type="checkbox"/> Vor dieser Tafel anhalten, bis Weiterfahrt freigegeben wird.</p> <p><input type="checkbox"/> Schleuse außer Betrieb.</p> <p><input type="checkbox"/> Es ist ein langer Ton zu geben.</p>	••
14	<p>Du siehst am Ufer die untenstehende Tafel. Welche Bedeutung hat sie?</p> <div style="text-align: center;">  </div>	<p><input type="checkbox"/> Fähre kreuzt das Fahrwasser, Überholverbot für alle Fahrzeuge.</p> <p><input type="checkbox"/> Einfahrt nur für Fahrzeuge ohne Motorantrieb.</p> <p><input type="checkbox"/> Ende eines Ge- oder Verbotes bzw. einer Einschränkung in einer Fahrtrichtung.</p>	•

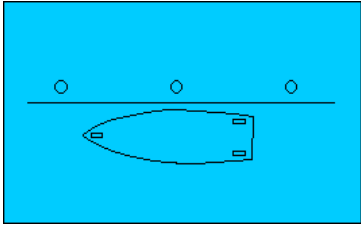
Jugendlizenz-Fragebogen Nr. 1

Nr.	Frage	Antwort	Pkt
15	<p>Mögliche Liegeplätze können mit den folgenden Tafeln gekennzeichnet sein. Was bedeutet das für dich?</p> 	<p><input type="checkbox"/> Dies ist eine Klassifikation der Liegestellen. Bei drei blauen Dreiecken ist der meiste Komfort.</p> <p><input type="checkbox"/> Schiffe, die hier liegen, haben gefährliche Güter geladen. Ich bleibe weg</p> <p><input type="checkbox"/> Nur bei einem blauen Dreieck dürfen Kleinfahrzeuge liegen bleiben.</p>	●●●
16	<p>Wie lang ist ein kurzer Ton?</p>	<p><input type="checkbox"/> Etwa 1 Sekunde</p> <p><input type="checkbox"/> Etwa 2 Sekunden</p> <p><input type="checkbox"/> Etwa 3 Sekunden</p>	●
17	<p>Was bedeuten 5 kurze Töne?</p>	<p><input type="checkbox"/> Ein Ausweichpflichtiger wird auf seine Ausweichpflicht hingewiesen.</p> <p><input type="checkbox"/> Überholen nicht möglich.</p> <p><input type="checkbox"/> Fahrzeug fährt rückwärts.</p>	●●
18	<p>Du siehst die untenstehenden Tafeln. Welche Bedeutung haben sie?</p> 	<p>Zeichen 1:</p> <p><input type="checkbox"/> Ankern verboten jeweils auf der Fahrwasserseite auf der die Tafel steht.</p> <p><input type="checkbox"/> Ankern für Sportboote verboten.</p> <p><input type="checkbox"/> Das mitführen von Ankern jeglicher Art ist verboten.</p> <p>Zeichen 2:</p> <p><input type="checkbox"/> Festmachen verboten jeweils auf der Fahrwasserseite auf der die Tafel steht.</p> <p><input type="checkbox"/> Festmachen für Sportboote verboten</p> <p><input type="checkbox"/> Erlaubnis zum Festmachen muss angefordert werden.</p>	●●●

Jugendlizenz-Fragebogen Nr. 1

Nr.	Frage	Antwort	Pkt
19	Was ist Sog?	<input type="checkbox"/> Die Eigenschaft von in Fahrt befindlichen Schiffen, andere Schiffe zu sich zu ziehen <input type="checkbox"/> Das starke Ziehen an einem Seil	•
20	Zwei Motorboote kommen sich entgegen. Wie weichen sie aus?	<input type="checkbox"/> Geschwindigkeit verringern und Handzeichen geben, in welche Richtung ich ausweiche. <input type="checkbox"/> Jeder muss nach Backbord ausweichen. <input type="checkbox"/> Jeder muss nach Steuerbord ausweichen.	••
21	Während deiner Fahrt tritt unsichtiges Wetter ein. Welche Maßnahmen musst du einleiten?	<input type="checkbox"/> Fahrt sofort einstellen, Fahrwasser freimachen. <input type="checkbox"/> Lichter einschalten. <input type="checkbox"/> Möglichst nächsten Hafen aufsuchen.	••
22	Was musst du bei einer Talschleusung beachten?	<input type="checkbox"/> Auf die Markierungen in der Schleuse ist zu achten. <input type="checkbox"/> Das Boot darf nur an der Heckklampe belegt werden. <input type="checkbox"/> Auf sicheres Fieren der Leinen ist zu achten.	•

Jugendlizenz-Fragebogen Nr. 1

Nr.	Frage	Antwort	Pkt
23	<p>Wie belegt man an</p> <ol style="list-style-type: none"> 1. einer Klampe? 2. einem Pfahl? 3. einem Ring? 	<p>zu 1 (Klampe):</p> <p><input type="checkbox"/> mit Kreuzschlägen und Kopfschlag</p> <p><input type="checkbox"/> mit Webeleinstek oder Palstek</p> <p><input type="checkbox"/> mit Rohringstek oder mit Rundtörn und zwei halben Schlägen.</p> <p>zu 2 (Pfahl):</p> <p><input type="checkbox"/> mit Kreuzschlägen und Kopfschlag</p> <p><input type="checkbox"/> mit Webeleinstek oder Palstek</p> <p><input type="checkbox"/> mit Rohringstek oder mit Rundtörn und zwei halben Schlägen.</p> <p>zu 3 (Ring):</p> <p><input type="checkbox"/> mit Kreuzschlägen und Kopfschlag</p> <p><input type="checkbox"/> mit Webeleinstek oder Palstek</p> <p><input type="checkbox"/> mit Rohringstek oder mit Rundtörn und zwei halben Schlägen.</p>	●●●
24	<p>Zeichne die Leinen ein, mit denen dieses Sportboot korrekt an der Pier festgemacht wird. Benenne diese vom Bug zum Heck.</p>	 <p>The diagram shows a side view of a boat on a pier. A horizontal line represents the pier. Three small circles are positioned above the pier line, representing mooring points. The boat is positioned below the pier line, with its bow pointing to the left and its stern to the right. The boat's hull is outlined, and there are small rectangular shapes on the deck representing the cockpit area.</p>	●●

Jugendlizenz-Fragebogen Nr. 1

Nr.	Frage	Antwort	Pkt
25	Was ist zu tun, wenn jemand über Bord gefallen ist?	<input type="checkbox"/> Gegen Strom und Wind die Person anfahren, Propeller auskuppeln, Person bei stillliegendem Boot bergen. <input type="checkbox"/> Auskuppeln, Heck abdrehen, „Mann über Bord“ rufen, Rettungsring werfen, <input type="checkbox"/> Boot aus dem Gefahrenbereich bringen und auf Hilfe warten oder die Küstenwache informieren.	••
26	Wie heißen die Regeln, in denen du für dein Verhalten zum Schutz seltener Tiere und Pflanzen sowie zur Reinhaltung der Gewässer Hinweise findest?	<input type="checkbox"/> Umweltschutzregeln <input type="checkbox"/> Befahrensregeln für Naturschutzgebiete und Nationalparks <input type="checkbox"/> Die 10 goldenen Regeln	••
27	Warum solltest du in deinem Boot unbedingt Paddel mitführen?	<input type="checkbox"/> Damit im Notfall das Boot aus dem Fahrwasser gepaddelt werden kann. <input type="checkbox"/> Damit ich bei Langsamfahrt den Motor abstellen kann (Umweltschutz). <input type="checkbox"/> Damit ich mich vom Ufer abstoßen kann.	•
28	Wozu dient der Fender?	<input type="checkbox"/> Er dient als Rettungshilfe bei "Mann über Bord"- Manövern. <input type="checkbox"/> Er wird als Signalzeichen bei Ankerliegern gesetzt. <input type="checkbox"/> Er dient zum Schutz des Bootskörpers	••
29	Wie stellst du fest, dass dein Anker hält?	<input type="checkbox"/> Wenn die Ankerleine straff ist. <input type="checkbox"/> Durch peilen von Landmarken. <input type="checkbox"/> Durch anfassen der Ankerkette oder Leine, wenn diese vibriert oder ruckt, hat der Anker nicht gefasst.	•

Jugendlizenz-Fragebogen Nr. 1

Nr.	Frage	Antwort	Pkt
30	Weshalb ist die Drehrichtung deines Propellers für das Manövrieren unter Motor von Bedeutung?	<input type="checkbox"/> Da der "Radeffekt" das Heck zur einen oder anderen Seite versetzt, kann er beim Manövrieren berücksichtigt werden. <input type="checkbox"/> Bei rechtsdrehendem Propeller wird beim vorwärts fahren das Heck nach Backbord versetzt. <input type="checkbox"/> Bei linksdrehendem Propeller wird beim vorwärts fahren das Heck nach Backbord versetzt.	••
Gesamtpunkte:		60	erreichte Punkte:

bestanden: 52 bis 60 Punkte	<input type="checkbox"/>
mdl. Prüfung: 44 bis 51 Punkte	<input type="checkbox"/>
nicht bestanden: 0 bis 43 Punkte	<input type="checkbox"/>