



## Jugendlizenz B1

Name \_\_\_\_\_ Vorname \_\_\_\_\_

Anschrift \_\_\_\_\_ PLZ, Ort \_\_\_\_\_

Geb.-Datum \_\_\_\_\_ Landesverband \_\_\_\_\_

Prüfer \_\_\_\_\_

Punkte erreichbar: **60**

Punkte erreicht \_\_\_\_\_

bestanden  ja

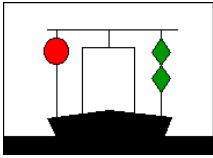
nein

Datum, Unterschrift \_\_\_\_\_

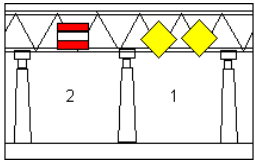

### Jugendlizenz-Fragebogen Nr. 2

Nr.	Frage	Antwort	Pkt
1	Wer überwacht die Einhaltung der Vorschriften auf dem Wasser?	<input checked="" type="checkbox"/> Die Wasserschutzpolizei <input checked="" type="checkbox"/> Die Wasser- und Schifffahrtsverwaltung <input type="checkbox"/> Die DGzRS	•••
2	Wie lauten die Grundregeln für das Verhalten auf dem Wasser?	<input type="checkbox"/> Das Fahrwasser immer mit max. Geschwindigkeit befahren. <input checked="" type="checkbox"/> Alle haben Maßnahmen zur sicheren Führung des Fahrzeugs zu treffen. <input checked="" type="checkbox"/> Es darf keiner geschädigt, gefährdet oder mehr als unvermeidbar behindert oder belästigt werden	•••
3	Wie hast du dich zu verhalten, wenn du durch Übermüdung, Einwirkung von Alkohol, Medikamente oder Drogen beeinträchtigt bist?	<input type="checkbox"/> Ich bestimme einen anderen Fahrzeugführer, der <b>meine</b> Anweisungen zu befolgen hat. <input checked="" type="checkbox"/> Ich darf das Boot nicht führen. <input type="checkbox"/> Ich stelle meine Fahrtüchtigkeit mit geeigneten Gegenmitteln wieder her.	••
4	Wann darfst du von den Grundregeln für das Verhalten auf dem Wasser abweichen?	<input checked="" type="checkbox"/> Wenn ich dadurch einen Unfall vermeiden kann. <input type="checkbox"/> Am Wochenende <input type="checkbox"/> Werktags	••




## Jugendlizenz-Fragebogen Nr. 2

Nr.	Frage	Antwort	Pkt
5	Welche Papiere musst du während des Führens deines Bootes stets mitführen, wenn du zwischen 12 und 16 Jahren alt bist?	<input checked="" type="checkbox"/> die Lizenz B1 des DMYV <input checked="" type="checkbox"/> den Ausweis über die Kennzeichnung des Bootes <input type="checkbox"/> die entsprechende Revierkarte	••
6	Du siehst im Fahrwasser voraus unten stehende Zeichen. Was bedeuten diese Zeichen und wie verhältst du dich? 	<input checked="" type="checkbox"/> schwimmendes Gerät bei der Arbeit, Vorbeifahrt nur an der grünen Seite gestattet. <input type="checkbox"/> Schiff von vorne über 100 m, Vorbeifahrt mit großem Abstand an der grünen Seite <input type="checkbox"/> auf Grund gelaufenes Schiff, Abstand halten.	••
7	Welches sind die wesentlichen Lichter, die motorisierte Schiffe bei Nacht während der Fahrt führen müssen.	<input checked="" type="checkbox"/> Grüne Steuerbordlaterne, rote Backbordlaterne und weiße Laterne oder Laternen so, dass man aus jedem Blickwinkel ein weißes Licht sieht <input type="checkbox"/> ein weißes Rundumlicht <input type="checkbox"/> Scheinwerfer nach vorne und rote Rücklichter	•••
8	Du siehst auf einem Fahrzeug ein blaues Funkellicht. Um welche Fahrzeuge handelt es sich?	<input checked="" type="checkbox"/> Fahrzeuge der Überwachungsbehörden <input type="checkbox"/> Saugbagger in Fahrt <input checked="" type="checkbox"/> Feuerlöschboote oder Wasserrettung im Einsatz	••

## Jugendlizenz-Fragebogen Nr. 2

Nr.	Frage	Antwort	Pkt
9	<p>Welche Zeichen begrenzen die Fahrrinne zum linken Ufer (linkes Ufer in Fließrichtung betrachtet)?</p>	<p><input type="checkbox"/> gelbe Spitztonnen oder Schwimmstangen evtl. mit gelbem Kegel, Spitze nach oben als Topzeichen</p> <p><input checked="" type="checkbox"/> grüne Spitztonnen oder Schwimmstangen evtl. mit grünem Kegel, Spitze nach oben als Topzeichen</p> <p><input type="checkbox"/> rote Spitztonnen oder Schwimmstangen evtl. mit rotem Kegel</p>	••
10	<p>Du kommst am Tage an die untenstehende gekennzeichnete Brücke. Was bedeuten diese Tafeln und wo fährst du durch?</p> 	<p><input type="checkbox"/> bei 1) Achtung, Gegenverkehr bei 2) Durchfahrt erlaubt</p> <p><input type="checkbox"/> bei 1) Durchfahrt erlaubt nur für Großschiffahrt bei 2) Durchfahrt für Sportboote</p> <p><input checked="" type="checkbox"/> bei 1) Durchfahrt ohne Gegenverkehr bei 2) Verbot der Durchfahrt</p>	••
11	<p>Du siehst unten stehendes Zeichen. Welche Bedeutung hat es?</p> 	<p><input type="checkbox"/> Ende der Wassermotorradstrecke</p> <p><input checked="" type="checkbox"/> Sog und Wellenschlag vermeiden</p> <p><input type="checkbox"/> Vorsicht! Starker Wellenschlag.</p>	••
12	<p>Du siehst am Tage ein Fahrzeug, auf dem eine rote Flagge geschwenkt wird. Was bedeutet das?</p>	<p><input checked="" type="checkbox"/> Fahrzeug in Not, welches Hilfe benötigt, ich leiste Hilfe, soweit meine Sicherheit nicht beeinträchtigt wird</p> <p><input type="checkbox"/> Das Fahrzeug verliert Kraftstoff, ich bringe mich aus dem Gefahrenbereich</p> <p><input type="checkbox"/> Achtung! Besondere Vorsicht walten lassen, Vorbeifahrt verboten</p>	••

## Jugendlizenz-Fragebogen Nr. 2

Nr.	Frage	Antwort	Pkt
13	<p>Du siehst unten stehende Tafel. Welche Bedeutung hat sie?</p> <div style="text-align: center;">  </div>	<input type="checkbox"/> Hinweis auf einen Yachthafen <input type="checkbox"/> Vorsicht, kreuzende Fahrzeuge von links <input checked="" type="checkbox"/> vorgeschriebene Fahrtrichtung	••
14	<p>Du siehst unten stehende Tafel. Welche Bedeutung hat sie?</p> <div style="text-align: center;">  </div>	<input type="checkbox"/> Das Mitführen von metallischen Ankern ist verboten (Radarreflektion) <input checked="" type="checkbox"/> Ankerverbot auf der Uferseite, auf der das Schild steht. 50 m links und 50 m rechts der Tafel. <input type="checkbox"/> Ankerverbot auf der Uferseite, die der Tafel gegenüberliegt. 50 m links und 50 m rechts der Tafel.	••
15	<p>Mögliche Liegeplätze können mit den folgenden Tafeln gekennzeichnet sein. Was bedeutet das für dich?</p> <div style="text-align: center;">  </div>	<input type="checkbox"/> Bezeichnung der Wassertiefe. <input checked="" type="checkbox"/> Schiffe, die hier liegen, haben gefährliche Güter geladen. Ich bleibe weg <input type="checkbox"/> Nur bei einem blauen Dreieck dürfen Kleinfahrzeuge liegen bleiben.	•
16	<p>Zwei Motorboote nähern sich auf kreuzenden Kursen und es besteht die Gefahr eines Zusammenstoßes. Welches Boot muss ausweichen?</p>	<input type="checkbox"/> Beide müssen nach Backbord ausweichen <input type="checkbox"/> Beide müssen nach Steuerbord ausweichen <input checked="" type="checkbox"/> Derjenige, der den anderen auf der Steuerbordseite hat, muss ausweichen	•••
17	<p>Was ist Sog?</p>	<input checked="" type="checkbox"/> Die Eigenschaft von in Fahrt befindlichen Schiffen, andere Schiffe zu sich zu ziehen <input type="checkbox"/> Das starke Ziehen an einem Seil	•

## Jugendlizenz-Fragebogen Nr. 2

Nr.	Frage	Antwort	Pkt
18	Wann ist Wellenschlag zu vermeiden?	<input type="checkbox"/> Wenn die Wasserschutzpolizei in der Nähe ist. <input checked="" type="checkbox"/> Wenn man Andere oder auch Bauwerke damit gefährden könnte <input type="checkbox"/> Wenn die Familie Kaffee trinkt	••
19	Worauf hast du in einer Schleuse zu achten?	<input checked="" type="checkbox"/> Ich muss mein Boot so befestigen, dass es jederzeit unter Kontrolle bleibt und gleichzeitig dem steigenden oder sinkenden Wasserstand folgen kann. <input type="checkbox"/> Möglichst schnell ausfahren <input type="checkbox"/> Ich sollte die Zeit in der Schleuse für notwendige Aufräumarbeiten in meinem Boot nutzen	•••
20	Wie schnell darfst du fahren?	<input type="checkbox"/> Ich fahre so schnell wie es mein Motor erlaubt, um immer den Anderen aus dem Weg gehen zu können. <input checked="" type="checkbox"/> Ich muss Geschwindigkeitsbeschränkungen beachten, die es z.B. fast auf allen Kanälen und vielen Flüssen gibt. <input checked="" type="checkbox"/> Ich darf nur mit der Geschwindigkeit fahren, bei der ich das Boot noch sicher beherrsche und nicht gegen Gesetze verstoße	••
21	Was tust du, wenn Benzin ins Boot gelangt ist?	<input type="checkbox"/> mit einem Schöpfeimer aufnehmen und über Bord kippen <input checked="" type="checkbox"/> Feuer und offenes Licht löschen und mit Schwamm oder Tüchern aufnehmen. <input checked="" type="checkbox"/> Boot reinigen und Umweltschutz beachten.	••

## Jugendlizenz-Fragebogen Nr. 2

Nr.	Frage	Antwort	Pkt
22	Warum dürfen in einer Schleuse die Leinen nicht fest belegt werden?	<input type="checkbox"/> weil das Ab- und Anlegen zu lange dauert <input type="checkbox"/> damit ich während des Schleusenvorgangs einem größeren Schiff Platz machen kann. <input checked="" type="checkbox"/> damit die Leinen gefiert bzw. durchgeholt werden können und im Notfall das Boot sofort gelöst werden kann.	••
23	Welche Anforderungen müssen Rettungswesten erfüllen?	<input checked="" type="checkbox"/> Sie müssen ohnmachtsicher sein, d.h. der Kopf einer bewusstlosen Person muss stets in Rückenlage über Wasser gehalten werden <input type="checkbox"/> Sie muss mich vor Wind und Wetter schützen <input type="checkbox"/> Sie muss eine Kennzeichnung haben, damit der Bootsführer die ihm zugeteilte Weste wiedererkennt.	•
24	Wozu dient der Schotstek?	<input type="checkbox"/> er bildet ein festes Auge <input type="checkbox"/> er verbindet zwei gleichstarke Tampen <input checked="" type="checkbox"/> er verbindet zwei ungleichstarke Tampen	••
25	Wieviel Ankerleine musst du zum sicheren Liegen ausbringen?	<input type="checkbox"/> Soviel, dass der Anker den Boden erreicht <input checked="" type="checkbox"/> Wesentlich mehr, als das Wasser tief ist – mehr als das 5-fache der Wassertiefe <input type="checkbox"/> Soviel ich habe, wenn der Anker nicht den Boden erreicht habe ich einen Treibanker	•

## Jugendlizenz-Fragebogen Nr. 2

Nr.	Frage	Antwort	Pkt
26	Womit musst du rechnen, wenn plötzlich starker Wind aufkommt?	<input type="checkbox"/> Dass ich bei Gegenwind schneller fahre <input checked="" type="checkbox"/> Dass eine starke Wetterverschlechterung kommt <input type="checkbox"/> Dass der Benzinverbrauch ansteigt	●●●
27	Weshalb musst du den Tank des Bootes immer an Land befüllen?	<input type="checkbox"/> Damit das verschüttete Benzin vom Erdreich aufgenommen werden kann. (Gewässerschutz) <input type="checkbox"/> Damit ich die benötigte Spritmenge ermitteln kann. <input checked="" type="checkbox"/> Um zu verhindern, dass Treibstoff ins Wasser gelangt.	●●
28	Wie verhält sich dein Boot, wenn du mit einem rechtsdrehenden Propeller rückwärts fährst?	<input type="checkbox"/> er versetzt das Heck nach Steuerbord <input checked="" type="checkbox"/> er versetzt das Heck nach Backbord <input type="checkbox"/> das Boot lässt sich besser manövrieren	●
29	Wozu dient der Kopfschlag?	<input checked="" type="checkbox"/> zum Sichern der Leine beim Belegen einer Klampe <input type="checkbox"/> damit wird das Ausrauschen eines Endes aus einer Öse verhindert <input type="checkbox"/> damit sich der Tampen nicht aufreißt	●●

## Jugendlizenz-Fragebogen Nr. 2

Nr.	Frage	Antwort	Pkt
30	Welches ist die günstigste Anlegeseite eines Bootes mit rechtsdrehendem Propeller? Begründung?	<input checked="" type="checkbox"/> Backbord, weil das Heck beim Aufstoppen durch den Rückwärtsgang an die Pier gezogen wird. <input type="checkbox"/> Steuerbord, weil das Heck beim Aufstoppen durch den Rückwärtsgang von der Pier weg gezogen wird. <input type="checkbox"/> egal, weil die Drehrichtung des Propellers bei Rückwärtsfahrt keine Auswirkung hat.	•

<b>Gesamtpunkte:</b>	<b>60</b>	<b>erreichte Punkte:</b>	
----------------------	-----------	--------------------------	--

bestanden: 52 bis 60 Punkte	<input type="checkbox"/>
mdl. Prüfung: 44 bis 51 Punkte	<input type="checkbox"/>
nicht bestanden: 0 bis 43 Punkte	<input type="checkbox"/>